

# PROFESSIONAL EXAMINATION BOARD

## Platoon Commander (Home Guard) Selection Test : 2016

27th November 2016, 02:00 PM

Topic:- English

1)

Question Stimulus :-

**DIRECTIONS:** The first and the last parts of the sentence are marked 1 and 6. The rest of the sentence is split into four parts and marked P, Q, R and S. These four parts are not given in their proper order. Read the sentences and find out which of the four combinations is correct.

1. A non-renewable resource

P. are considered non-renewable resources in that their use is not sustainable

Q. by natural means on a level equal to its consumption.

R. Most fossil fuels, such as oil, natural gas and coal

S. is a resource of economic value that cannot be readily replaced

6. because their formation takes billions of years.

- SQRP
- PSRQ
- QPRS
- RQPS

Correct Answer :-SQRP

2)

Question Stimulus :-

Fill in the blank with the correct article.

Discretion is \_\_\_\_\_ greater part of valour.

- a
- an
- the
- No article required

Correct Answer :-the

3)

Question Stimulus :-

**DIRECTIONS:** The first and the last parts of the sentence are marked 1 and 6. The rest of the sentence is split into four parts and marked P, Q, R and S. These four parts are not given in their

proper order. Read the sentences and find out which of the four combinations is correct.

1. Hibernation is a deep sleep

P. During hibernation the animal's body temperature drops

Q. that helps the animals to save energy

R. and its heartbeat and its breathing slow down

S. and survive the winter without eating much

6. So that it does not use much energy.

- RQSP
- PSQR
- SPQR
- QSPR

Correct Answer :-QSPR

4)

Question Stimulus :-

**DIRECTIONS:** The first and the last parts of the sentence are marked 1 and 6. The rest of the sentence is split into four parts and marked P, Q, R and S. These four parts are not given in their proper order. Read the sentences and find out which of the four combinations is correct.

1. Water pollution is the contamination

P. when pollutants are directly or indirectly

Q. of water bodies, such as lakes, rivers, oceans, aquifers and groundwater

R. discharged into water bodies

S. This form of environmental degradation occurs

6. without adequate treatment to remove harmful compounds.

- PQSR
- SRQP
- RSPQ
- QSPR

Correct Answer :-QSPR

5)

Question Stimulus :-

**DIRECTIONS:** In the following question a part of the sentence may have an error. Find out which part of a sentence has an error and mark your answer accordingly. If there is no error, mark (d) 'No error' as your answer.

He started working (a)/ for the company in 1995, (b)/ and have been there ever since. (c)/ No Error (d)

- (a)
- (b)
- (c)
- (d)

Correct Answer :- (c)

6)

Question Stimulus :-

**DIRECTIONS:** In the following question a part of the sentence may have an error. Find out which part of a sentence has an error and mark your answer accordingly. If there is no error, mark (d) 'No error' as your answer.

Neither Rita (a)/ nor her sisters is (b)/ coming to the party. (c)/ No Error (d)

- (a)
- (b)
- (c)
- (d)

Correct Answer :- (b)

7)

Question Stimulus :-

**DIRECTIONS:** The first and the last parts of the sentence are marked 1 and 6. The rest of the sentence is split into four parts and marked P, Q, R and S. These four parts are not given in their proper order. Read the sentences and find out which of the four combinations is correct.

1. Deforestation, clearance or clearing

P. where the land is thereafter converted to a non-forest use

Q. to farms, ranches, or urban use

R. is the removal of a forest or stand of trees

S. Examples of deforestation include conversion of forestland

6. The most concentrated deforestation occurs in tropical rainforests

- PSRQ
- RPSQ
- SRQP
- QSRP

**Correct Answer :-RPSQ**

**8)**

**Question Stimulus :-**

**DIRECTIONS: Find the Word which is most similar to the given word.**

**Sad**

- **Happy**
- **Optimist**
- **Miserable**
- **Cheerful**

**Correct Answer :-Miserable**

**9)**

**Question Stimulus :-**

**Fill in the blank with the correct option.**

**We need \_\_\_\_\_ butter for this cake.**

- **few**
- **a few**
- **a little**
- **the little**

**Correct Answer :-a little**

**10)**

**Question Stimulus :-**

**Fill in the blank with the correct option.**

**There were only \_\_\_\_\_ bananas in the box.**

- **the little**
- **a few**
- **the few**
- **a little**

**Correct Answer :-a few**

**11)**

**Question Stimulus :-**

**DIRECTIONS: Find the word which is opposite to the given word.**

## Abundant

- Prosperity
- Huge
- Vast
- Scarce

Correct Answer :-Scarce

12)

Question Stimulus :-

Fill in the blank with the correct prepositions.

The population has fallen \_\_\_\_\_ three million \_\_\_\_\_ just under two and a half million in the last 30 years.

- into, from
- from, to
- for, by
- for, from

Correct Answer :-from, to

13)

Question Stimulus :-

**DIRECTIONS:** In the following question, there are four different words out of which one is wrongly spelt. Find the wrongly spelt word.

- Convince
- Innovative
- Pionear
- Criteria

Correct Answer :-Pionear

14)

Question Stimulus :-

**DIRECTIONS:** Find the word which is most similar to the given word.

Extraordinary

- Honest
- wealthy

- Miser
- Remarkable

Correct Answer :-Remarkable

15)

Question Stimulus :-

Fill in the blank with the correct conjunction.

The doctors are doing all that they can, \_\_\_\_\_ she's still not breathing properly.

- hence
- also
- and
- but

Correct Answer :-but

16)

Question Stimulus :-

Fill in the blank with the correct preposition.

From the top of the skyscraper the cars \_\_\_\_\_ us looked like insects.

- across
- below
- above
- along

Correct Answer :-below

17)

Question Stimulus :-

Fill in the blank with the correct option.

You \_\_\_\_\_ eat more food that contains a lot of fiber, such as fruit, vegetables and bread.

- should
- would
- may
- can

Correct Answer :-should

18)

**Question Stimulus :-**

**DIRECTIONS:** In the following question a part of the sentence may have an error. Find out which part of a sentence has an error and mark your answer accordingly. If there is no error, mark (d) 'No error' as your answer.

**You have to (a)/ choose among (b)/ tea and coffee. (c)/ No Error (d)**

- (a)
- (b)
- (c)
- (d)

**Correct Answer :- (b)**

19)

**Question Stimulus :-**

**Fill in the blank with the correct conjunction.**

She stands a good chance, \_\_\_\_\_ only two people are contesting the seat and the other candidate is very unpopular.

- but
- while
- and
- since

**Correct Answer :- since**

20)

**Question Stimulus :-**

**Fill in the blank with the correct conjunction.**

We haven't needed extra staff as yet, \_\_\_\_\_ we may need in the future.

- and
- but
- because
- hence

**Correct Answer :- but**

21)

**Question Stimulus :-**

**DIRECTIONS:** In the following question a part of the sentence may have an error. Find out which part of a sentence has an error and mark your answer accordingly. If there is no error, mark (d) 'No error' as your answer.

It have been (a)/ raining heavily (b)/ since Monday. (c)/ No Error (d)

- (a)
- (b)
- (c)
- (d)

Correct Answer :-(a)

22)

Question Stimulus :-

**DIRECTIONS:** In the following question a part of the sentence may have an error. Find out which part of a sentence has an error and mark your answer accordingly. If there is no error, mark (d) 'No error' as your answer.

No sooner had I (a)/ entered the class (b)/ when the students stood up. (c)/ No Error (d)

- (a)
- (b)
- (c)
- (d)

Correct Answer :-(c)

23)

Question Stimulus :-

Fill in the blank with the correct option.

The culprit \_\_\_\_\_ at the most incredible speed

- has drove off
- have drove off
- drove off
- have driven off

Correct Answer :-drove off

24)

Question Stimulus :-

**DIRECTIONS:** The first and the last parts of the sentence are marked 1 and 6. The rest of the sentence is split into four parts and marked P, Q, R and S. These four parts are not given in their



proper order. Read the sentences and find out which of the four combinations is correct.

1. A tsunami,

P. is a series of waves in a water body

Q. caused by the displacement

R. also known as a seismic sea wave

S. of a large volume of water

6. generally in an ocean or a large lake.

- QRSP
- PSRQ
- RPQS
- SQRP

Correct Answer :-RPQS

25)

Question Stimulus :-

**DIRECTIONS:** Find the word which is opposite to the given word.

**Bravery**

- Strength
- Cowardice
- Courage
- Honesty

Correct Answer :-Cowardice

Topic:- RC\_English

1)

Question Stimulus :-

**DIRECTIONS:** Read the following passage carefully and answer the questions given below it.

Poverty refers to a situation when people are deprived of basic necessities of life. It is often characterized by inadequacy of food, shelter and clothes. In other words, poverty refers to a state of privation where there is a lack of essential needs for subsistence. India is one of the poorest countries in the world. Many Indian people do not get two meals a day. They do not have good houses to live in. Their children do not get proper schooling. Poor people are the depressed and deprived class. They do not get proper nutrition and diet. Their conditions have not sufficiently improved even long after over 65 years of our Independence.

What does the word 'inadequacy' mean?

- Wealth

- Superiority
- Abundance
- Shortage

Correct Answer :-Shortage

2)

Question Stimulus :-

**DIRECTIONS:** Read the following passage carefully and answer the questions given below it.

Poverty refers to a situation when people are deprived of basic necessities of life. It is often characterized by inadequacy of food, shelter and clothes. In other words, poverty refers to a state of privation where there is a lack of essential needs for subsistence. India is one of the poorest countries in the world. Many Indian people do not get two meals a day. They do not have good houses to live in. Their children do not get proper schooling. Poor people are the depressed and deprived class. They do not get proper nutrition and diet. Their conditions have not sufficiently improved even long after over 65 years of our Independence.

What is poverty?

- The state of being wealthy
- The state of being poor
- The state of being illiterate
- None of the above

Correct Answer :-The state of being poor

3)

Question Stimulus :-

**DIRECTIONS:** Read the following passage carefully and answer the questions given below it.

Poverty refers to a situation when people are deprived of basic necessities of life. It is often characterized by inadequacy of food, shelter and clothes. In other words, poverty refers to a state of privation where there is a lack of essential needs for subsistence. India is one of the poorest countries in the world. Many Indian people do not get two meals a day. They do not have good houses to live in. Their children do not get proper schooling. Poor people are the depressed and deprived class. They do not get proper nutrition and diet. Their conditions have not sufficiently improved even long after over 65 years of our Independence.

What does the author mean by the line, “people are deprived of basic necessities of life”?

- People are provided everything that they require
- Life is made comfortable and luxurious
- People do not get even the bare minimum things required
- None of the above

Correct Answer :-People do not get even the bare minimum things required

4)

Question Stimulus :-

**DIRECTIONS:** Read the following passage carefully and answer the questions given below it.

Poverty refers to a situation when people are deprived of basic necessities of life. It is often characterized by inadequacy of food, shelter and clothes. In other words, poverty refers to a state of privation where there is a lack of essential needs for subsistence. India is one of the poorest countries in the world. Many Indian people do not get two meals a day. They do not have good houses to live in. Their children do not get proper schooling. Poor people are the depressed and deprived class. They do not get proper nutrition and diet. Their conditions have not sufficiently improved even long after over 65 years of our Independence.

Whose condition has not improved even long after 65 years of our Independence?

- Poor people
- General masses
- Indian people
- None of the above

Correct Answer :-Poor people

5)

Question Stimulus :-

**DIRECTIONS:** Read the following passage carefully and answer the questions given below it.

Poverty refers to a situation when people are deprived of basic necessities of life. It is often characterized by inadequacy of food, shelter and clothes. In other words, poverty refers to a state of privation where there is a lack of essential needs for subsistence. India is one of the poorest countries in the world. Many Indian people do not get two meals a day. They do not have good houses to live in. Their children do not get proper schooling. Poor people are the depressed and deprived class. They do not get proper nutrition and diet. Their conditions have not sufficiently improved even long after over 65 years of our Independence.

What is the meaning of the word 'depressed'?

- Happy
- Dejected
- Optimistic
- Cheerful

Correct Answer :-Dejected

Topic:- Hindi

1)

Question Stimulus :-

हिंदी का पहला महाकाव्य है:

- पद्मावत

- प्रियप्रवास
- पृथ्वीराज रासो
- मृगावती

Correct Answer :-पृथ्वीराज रासो

2)

Question Stimulus :-

..... समास में दोनों पद प्रधान होते हैं ।

- बहुब्रीहि
- द्विगु
- द्वंद्व
- तत्पुरुष

Correct Answer :-द्वंद्व

3)

Question Stimulus :-

निम्नांकित में कौन-सा विपरीतार्थक शब्द-युग्म है?

- क्रोध-बैर
- स्थावर-जंगम
- प्यास-पानी
- चाय-कॉफी

Correct Answer :-स्थावर-जंगम

4)

Question Stimulus :-

संविधान के अनुच्छेद 343 के द्वारा हिंदी को .....के रूप में मान्यता मिली है।

- राष्ट्रभाषा
- राजभाषा
- मातृभाषा
- विभाषा

Correct Answer :-राजभाषा

5)

Question Stimulus :-

‘ऊर्मि’ और ‘वीचि’ पर्यायवाची हैं:

- जल के
- लहर के
- निर्झर के
- आकाशगंगा के

Correct Answer :-लहर के

6)

Question Stimulus :-

निम्नोक्त में कौन-सा वाक्य गलत है?

- ‘गोदान’ हिंदी लिपि में लिखा उपन्यास है
- राकेश का आचरण बुरा है
- आकाश बहुत विशाल है
- मुझे एक गिलास पानी चाहिए

Correct Answer :-‘गोदान’ हिंदी लिपि में लिखा उपन्यास है

7)

Question Stimulus :-

‘अंदर है और बाहर बहे, जो देखे सो मोरी कहे’- किसकी पहेली है:

- खुसरो
- जगनिक
- घाघ
- भड्डरी

Correct Answer :-खुसरो

8)

Question Stimulus :-

समोच्चरित भिन्नार्थक शब्द नहीं हैं:

- जरा-ज़रा
- पग-पग
- कुल-कूल

- गड़ना-गणना

Correct Answer :-पग-पग

9)

Question Stimulus :-

‘रामचंद्रिका’ नामक काव्य ग्रंथ के रचनाकार हैं :

- अग्रदास
- मैथिलीशरण गुप्त
- केशवदास
- रामभद्राचार्य

Correct Answer :-केशवदास

10)

Question Stimulus :-

‘अपनी मनमानी करना और दूसरे के साथ तालमेल न रखना’ हेतु उपयुक्त लोकोक्ति होगी :

- आधा तीतर आधा बटेर
- अपनी-अपनी ढपली अपना-अपना राग
- अंधेर नगरी चौपट राजा
- विनाशकाले विपरीत बुद्धि

Correct Answer :-अपनी-अपनी ढपली अपना-अपना राग

11)

Question Stimulus :-

उपकार को माननेवाला होता है:

- उपकारी
- कृतज्ञ
- परोपकारी
- ईप्सित

Correct Answer :-कृतज्ञ

12)

Question Stimulus :-

निम्नांकित में सही वाक्य है:

- तुलसीदास ने 'रामचरितमानस' नामक ग्रंथ का निर्माण किया
- तुलसीदास ने 'रामचरितमानस' नामक ग्रंथ की रचना की
- तुलसीदास ने 'रामचरितमानस' नामक ग्रंथ को बनाया
- तुलसीदास ने 'रामचरितमानस' नामक ग्रंथ की सृष्टि की

Correct Answer :-तुलसीदास ने 'रामचरितमानस' नामक ग्रंथ की रचना की

13)

Question Stimulus :-

निम्नांकित में से कौन-सा विकल्प विलोमार्थी नहीं है?

- सृष्टि-प्रलय
- अस्त-उदय
- क्रम-अनुक्रम
- जड़-चेतन

Correct Answer :-क्रम-अनुक्रम

14)

Question Stimulus :-

'कृष्ण' शब्द का अर्थ है:

- वासुदेव
- वेदव्यास
- श्याम
- उक्त सभी

Correct Answer :-उक्त सभी

15)

Question Stimulus :-

किस छंद के प्रत्येक चरण में 26 मात्राएँ तथा 14 एवं 12 मात्राओं के बाद यति होती है?

- गीतिका
- हरिगीतिका
- उल्लाला
- रोला

Correct Answer :-गीतिका

16)

Question Stimulus :-

..... की व्याप्ति कई वाक्यों तक पहुँचती है ।

- मुहावरे
- अन्योक्ति
- लोकोक्ति
- भिन्नार्थक शब्द

Correct Answer :-लोकोक्ति

17)

Question Stimulus :-

..... में किसी व्यक्ति के जीवन चरित्र का वर्णन होता है।

- एकांकी
- प्रबंध काव्य
- प्रगीत
- गीतिनाट्य

Correct Answer :-प्रबंध काव्य

18)

Question Stimulus :-

जिन वाक्यों से एक क्रिया के दूसरी क्रिया पर निर्भर होने का बोध होता है; वह है:

- विधानवाचक
- संदेहवाचक
- संकेतवाचक
- इच्छावाचक

Correct Answer :-संकेतवाचक

19)

Question Stimulus :-

‘मैं चाहता हूँ कि मैं भी कल तुम्हारे साथ ही घर चलूँ’- वाक्य है:

- विधानवाचक



- संदेहवाचक
- संकेतवाचक
- इच्छावाचक

Correct Answer :-इच्छावाचक

20)

Question Stimulus :-

‘कलम तोड़ना’ मुहावरे का आशय है:

- न्यायाधीश द्वारा फैसला लिखने के बाद कलम तोड़ देना
- बहुत अच्छा लिखना
- अंतिम निर्णय देना
- परीक्षा में कुछ न बनने पर विद्यार्थी का कलम तोड़ते रहना

Correct Answer :-बहुत अच्छा लिखना

21)

Question Stimulus :-

समास के प्रकार हैं:

- पाँच
- छः
- आठ
- दस

Correct Answer :-छः

22)

Question Stimulus :-

‘छत्तीसगढ़ी’ बोली संबद्ध है :

- पूर्वी हिंदी से
- पश्चिमी हिंदी से
- राजस्थानी हिंदी से
- पहाड़ी हिंदी से

Correct Answer :-पूर्वी हिंदी से

23)

Question Stimulus :-

जहाँ किसी उक्ति में वक्ता के अभिप्राय से दूसरे अर्थ की कल्पना की जाय, वहाँ होता है:

- अन्योक्ति अलंकार
- वक्रोक्ति अलंकार
- अतिशयोक्ति अलंकार
- भ्रांतिमान अलंकार

Correct Answer :-वक्रोक्ति अलंकार

24)

Question Stimulus :-

निम्नांकित में से कौन-सा विकल्प शब्द-युग्म है?

- लक्ष-लक्ष्य
- खट-खट
- घर-वर
- उक्त सभी

Correct Answer :-उक्त सभी

25)

Question Stimulus :-

निम्नांकित में कौन-सा कथन असत्य है?

- महाकाव्य में आठ या उससे अधिक सर्ग होते हैं
- महाकाव्य में अद्भुत रस का प्राधान्य रहता है
- महाकाव्य में अनेक छंदों का प्रयोग होता है
- महाकाव्य का नायक धीरोदात्त गुणों से युक्त होता है

Correct Answer :-महाकाव्य में अद्भुत रस का प्राधान्य रहता है

26)

Question Stimulus :-

कुंडलिया छंद किन दो छंदों से मिलकर बना है:

- उल्लाला-घनाक्षरी
- गीतिका-उल्लाला
- गीतिका-रोला

- दोहा-रोला

Correct Answer :-दोहा-रोला

27)

Question Stimulus :-

‘परीक्षा लेना’ के लिए मुहावरा होगा:

- अक्ल के घोड़े दौड़ाना
- कलम तोड़ना
- कसौटी पर कसना
- उपर्युक्त में से कोई नहीं

Correct Answer :-कसौटी पर कसना

28)

Question Stimulus :-

समोच्चरित भिन्नार्थक शब्द ‘अंश-अंस’ के अर्थ हैं:

- भाग-कंधा
- कम-अधिक
- संपत्ति-धरोहर
- सूर्य-चंद्रमा

Correct Answer :-भाग-कंधा

29)

Question Stimulus :-

.....को क्षेत्रीय भाषा भी कहते हैं ।

- मातृभाषा
- विभाषा
- ग्रामभाषा
- संकरभाषा

Correct Answer :-विभाषा

30)

Question Stimulus :-

भाषा के माध्यम से सौन्दर्यानुभूति की अभिव्यक्ति ..... है ।

- रस
- साहित्य
- अलंकार
- काव्य

Correct Answer :-काव्य

31)

Question Stimulus :-

Calculator के लिए हिंदी पारिभाषिक शब्द है:

- गणन-कल
- गणक
- संगणक
- गणनाकार

Correct Answer :-गणक

32)

Question Stimulus :-

‘संक्षेपण’ के विषय में सही नहीं है :

- संक्षेपण की प्रक्रिया में मूल तथ्य बदल जाते हैं ।
- इसमें अनेक शब्दों के लिए एक शब्द रखना चाहिए ।
- यह मूल अनुच्छेद का लगभग तिहाई होना चाहिए ।
- इसमें समास-शैली अपनायी जाती है ।

Correct Answer :-संक्षेपण की प्रक्रिया में मूल तथ्य बदल जाते हैं ।

33)

Question Stimulus :-

मध्यप्रदेश का प्राकृतिक सौंदर्य, लोक-संस्कृति और लोक-जीवन सरलता से प्रकट हुआ है:

- लोक बोलियों में
- समाचार पत्रों में
- दूरदर्शन पर
- चलचित्रों में

Correct Answer :-लोक बोलियों में

34)

Question Stimulus :-

‘अधजल गगरी छलकत जाय’ लोकोक्ति का तात्पर्य है :

- जल से आधी भरी गगरी छलकती ही है
- अधूरा ज्ञान रखने वाला ज्यादा दिखावा करता है
- प्रदर्शन अधिक सार की बात कम
- आडंबरयुक्त व्यक्ति या वस्तु सारहीन होती है

Correct Answer :-अधूरा ज्ञान रखने वाला ज्यादा दिखावा करता है

35)

Question Stimulus :-

‘अशोक राजनगर में रहता है’ वाक्य को ‘संकेतवाचक वाक्य’ में बदलने पर होगा:

- काश ! अशोक राजनगर में रहता
- यदि अशोक राजनगर में रहना चाहता है तो रह सकता है
- अशोक, तुम राजनगर में रहो
- शायद अशोक राजनगर में रहता है

Correct Answer :-यदि अशोक राजनगर में रहना चाहता है तो रह सकता है

36)

Question Stimulus :-

निम्नांकित में सही वाक्य है:

- दही जम गया है
- कोयल का कंठ सबसे मधुरतम है
- वह शायद अवश्य आयेगा
- उपर्युक्त में से कोई नहीं

Correct Answer :-उपर्युक्त में से कोई नहीं

37)

Question Stimulus :-

निराला की रचना ‘सरोज-स्मृति’ है:

- शोक गीत

- मुक्त काव्य
- उपन्यास
- कहानी

Correct Answer :-शोक गीत

38)

Question Stimulus :-

‘कनक’ के अर्थ हैं:

- सोना, धतूरा
- गंधक, अभ्रक
- ताँबा, मदार
- चाँदी, चंपा

Correct Answer :-सोना, धतूरा

39)

Question Stimulus :-

..... के लिए अन्य-पुरुष की वाक्य रचनाओं का प्रयोग करना चाहिए :

- समास-विग्रह
- पल्लवन
- समोच्चरित शब्द
- संक्षेपण

Correct Answer :-पल्लवन

40)

Question Stimulus :-

पदों/शब्दों के प्रत्यय का लोप होता है:

- संधि में
- समास में
- क्रिया विशेषण में
- राजभाषा में

Correct Answer :-समास में

41)

Question Stimulus :-

‘नीरस’ शब्द का संधि विच्छेद है:

- नी + रस
- नीर + स
- नि: + रस
- निर्: + स

Correct Answer :-नि: + रस

42)

Question Stimulus :-

‘सजावट’ शब्द प्रत्यय है:

- ‘ट’
- ‘वट’
- ‘आवट’
- ‘जावट’

Correct Answer :-‘आवट’

43)

Question Stimulus :-

‘पारिभाषिक शब्द’ के संबंध में सत्य नहीं है :

- इनका प्रयोग किसी ज्ञान विशेष के क्षेत्र में होता है।
- इनका अर्थ सुनिश्चित होता है।
- ये लक्ष्यार्थ और व्यंग्यार्थ में ग्रहण किये जाते हैं।
- इनके अर्थ में लचीलापन या विकल्प नहीं होता।

Correct Answer :-ये लक्ष्यार्थ और व्यंग्यार्थ में ग्रहण किये जाते हैं।

44)

Question Stimulus :-

‘ऐहिक’ का तात्पर्य है:

- जो सांसारिक न हो
- इस लोक से संबंध रखनेवाला
- ऐतिहासिक

- देह संबंधी चिकित्सा

Correct Answer :-इस लोक से संबंध रखनेवाला

45)

Question Stimulus :-

‘मानवाधिकार’ के लिए अंग्रेजी पारिभाषिक शब्द है:

- Spacial Man Rights
- Men Rights
- Human Rights
- Fundamental Rights

Correct Answer :-Human Rights

46)

Question Stimulus :-

बाल-पत्रिका ‘देवपुत्र’ कहाँ से प्रकाशित होती है?

- ग्वालियर
- जबलपुर
- इंदौर
- भोपाल

Correct Answer :-इंदौर

47)

Question Stimulus :-

‘नष्ट-भ्रष्ट कर देना’ हेतु मुहावरा है:

- छक्के छुड़ाना
- ईट से ईट बजाना
- ईट का जवाब पत्थर से देना
- दाँत खट्टे करना

Correct Answer :-ईट से ईट बजाना

48)

Question Stimulus :-

काव्य के बाह्य पक्ष के अंतर्गत आते हैं :



- अलंकार-रस-शब्द ध्वनि-विचार सौंदर्य
- रस-ध्वनि-शैली-माधुर्य
- रस-नाद सौंदर्य-छंद-ध्वनि
- भाषा-गुण-अलंकार-छंद

Correct Answer :-भाषा-गुण-अलंकार-छंद

49)

Question Stimulus :-

निबंधात्मकता का गुण होता है:

- संक्षेपण में
- लोकोक्तियों में
- पल्लवन में
- मुक्तकों में

Correct Answer :-पल्लवन में

50)

Question Stimulus :-

..... का प्रयोग वाक्य के प्रसंग में होता है अलग नहीं ।

- लोकोक्ति
- मुहावरे
- मुहावरे और लोकोक्तियों
- उपसर्ग

Correct Answer :-मुहावरे

51)

Question Stimulus :-

आचार्य मम्मट के अनुसार काव्य-गुणों की संख्या है:

- 20
- 10
- 7
- 3

Correct Answer :-3

52)

Question Stimulus :-

हिंदी कविता में 'मुक्त छंद' का सूत्रपात हुआ :

- आधुनिक काल में
- रीतिकाल में
- अमीर खुसरो द्वारा
- कविवर बिहारी द्वारा

Correct Answer :-आधुनिक काल में

53)

Question Stimulus :-

'नरसिंहपुर-शहडोल-देवास-खंडवा' में बोली जाने वाली बोलियों का क्रम है:

- बुंदेली-मालवी-गोंडी-निमाड़ी
- बुंदेली-बघेली-मालवी-निमाड़ी
- बुंदेली-गोंडी-मालवी-भीली
- बघेली-बघेली-कोरकू-मालवी

Correct Answer :-बुंदेली-बघेली-मालवी-निमाड़ी

54)

Question Stimulus :-

निम्नांकित में से कौन-सा विकल्प विलोम है:

- पृथा-प्रथा
- अथ-इति
- अनिष्ट-अनिष्ट
- आशा- आकांक्षा

Correct Answer :-अथ-इति

55)

Question Stimulus :-

'प्रगतिशील वसुधा' पत्रिका कहाँ से प्रकाशित होती है?

- सागर

- भोपाल
- जबलपुर
- रीवा

Correct Answer :-भोपाल

56)

Question Stimulus :-

‘जल’ का पर्यायवाची है:

- उदक
- तोय
- नीर
- उक्त सभी

Correct Answer :-उक्त सभी

57)

Question Stimulus :-

पश्चिमी हिंदी की प्रमुख बोलियाँ हैं :

- खड़ी बोली-ब्रज-बघेली-कन्नौजी-बुंदेली
- खड़ी बोली-ब्रज-बाँगरू-अवधी-बुंदेली
- खड़ी बोली-ब्रज-बाँगरू-कन्नौजी-बुंदेली
- खड़ी बोली-ब्रज-बिहारी-अवधी-बुंदेली

Correct Answer :-खड़ी बोली-ब्रज-बाँगरू-कन्नौजी-बुंदेली

58)

Question Stimulus :-

निम्नांकित में कौन-सा कथन सही नहीं है?

- ‘सूरसागर’ में श्रीकृष्ण की लीला विषयक पद संग्रहित हैं
- ‘सूरसागर’ के रचयिता सूरदास हैं
- ‘सूरसागर’ ब्रज भाषा में लिखा गया श्रेष्ठ महाकाव्य है
- ‘सूरसागर’ में राम-कथा संबंधी पद भी मिलते हैं

Correct Answer :-‘सूरसागर’ ब्रज भाषा में लिखा गया श्रेष्ठ महाकाव्य है

59)

Question Stimulus :-

महाकाव्य और खंडकाव्य से भिन्न पद्यबद्ध कहानी को ..... कहते हैं ।

- लक्षण काव्य
- वीर काव्य
- आख्यानक गीत
- प्रयाण गीत

Correct Answer :-आख्यानक गीत

60)

Question Stimulus :-

‘निर्वेद’ किस रस का स्थायी भाव:

- करुण रस
- वात्सल्य रस
- शांत रस
- अद्भुत रस

Correct Answer :-शांत रस

61)

Question Stimulus :-

‘संभवतः बरसात हो’- वाक्य है:

- संकेतवाचक
- संदेहवाचक
- विधानवाचक
- इच्छावाचक

Correct Answer :-संदेहवाचक

62)

Question Stimulus :-

..... में शब्दों का लक्ष्यार्थ ग्रहण किया जाता है; वाच्यार्थ नहीं ।

- मसौदे
- विभाषा
- मुहावरे

- क्षेत्रीय बोली

Correct Answer :-मुहावरे

63)

Question Stimulus :-

जबलपुर, भोपाल और इंदौर से प्रकाशित दैनिक समाचार पत्र है:

- राज एक्सप्रेस
- हरिभूमि
- चौथा संसार
- स्टार समाचार

Correct Answer :-राज एक्सप्रेस

64)

Question Stimulus :-

‘अर्क’ शब्द के आशय हैं:

- कमल, ऐरावत
- पसीना, मोर
- पारा, चाँदी
- सूर्य, मदार

Correct Answer :-सूर्य, मदार

65)

Question Stimulus :-

‘बारेली’ और ‘पटेलिया’ बोलियाँ किस जनजाति की बोली के अंतर्गत आती हैं।

- गोंड
- कोरकू
- भीली
- बैगा

Correct Answer :-भीली

Topic:- RC\_Hindi

1)

Question Stimulus :-

निर्देश: निम्नोक्त काव्यांश पढ़कर दिये गये प्रश्नों के उत्तर दीजिए:

हँस लो दो क्षण खुशी मिली गर, वरना जीवन भर क्रंदन है।

किसका जीवन हँसी-खुशी में, इस दुनिया में रहकर बीता?

सदा सर्वदा संघर्षों को, इस दुनिया में किसने जीता?

खिलता फूल म्लान हो जाता, हँसता-रोता चमन-चमन है।

कितने रोज चमकते तारे, कितने रह-रह गिर जाते हैं,

हँसता शशि भी छिप जाता है, जब सावन घन घिर आते हैं;

उगता-ढलता रहता सूरज, जिसका साक्षी नील गगन है।

कवि दो क्षण के लिए मिली खुशी पर हँसने के लिए कहता, क्योंकि:

- खुशी में हँसना चाहिए
- जीवन में खुशी काफ़ी प्रयासों के बाद आती है
- जीवन में दुःख की अधिकता है
- हँसना स्वास्थ्य के लिए अच्छा है

Correct Answer :-जीवन में दुःख की अधिकता है

2)

Question Stimulus :-

निर्देश: निम्नोक्त काव्यांश पढ़कर दिये गये प्रश्नों के उत्तर दीजिए :

हँस लो दो क्षण खुशी मिली गर, वरना जीवन भर क्रंदन है।

किसका जीवन हँसी-खुशी में, इस दुनिया में रहकर बीता?

सदा सर्वदा संघर्षों को, इस दुनिया में किसने जीता?

खिलता फूल म्लान हो जाता, हँसता-रोता चमन-चमन है।

कितने रोज चमकते तारे, कितने रह-रह गिर जाते हैं,

हँसता शशि भी छिप जाता है, जब सावन घन घिर आते हैं;

उगता-ढलता रहता सूरज, जिसका साक्षी नील गगन है।

तारे और चाँद के उदाहरण से कवि कहना चाहता है:

- सुख सदा नहीं रहता

- चाँद-तारे भी हँसते हैं
- गिरना-छिपना चलता रहता है
- चाँद-तारे मौन रहते हैं

Correct Answer :-सुख सदा नहीं रहता

3)

Question Stimulus :-

निर्देश: निम्नोक्त गद्यांश पढ़कर दिये गये प्रश्नों के उत्तर दीजिए:

कार्यकुशलता का पहला अंग तो यह है कि हम अपने कार्य को समय से पहले निर्धारित कर उसे अच्छी तरह जानें। हममें अधिकतर लोग कार्य उठा तो लेते हैं पर उसे अच्छी तरह जानते नहीं और न जानने का यत्न ही करते हैं। सफलता नहीं मिलने पर हम अपने दोष न देखकर दूसरे को दोष देते हैं और बार-बार कार्य बदलते रहते हैं। छोटे-छोटे कामों में भी यह देखा जाता है कि अधिकतर हम जो काम करते हैं उसमें पूरे तौर से योग्यता और निपुणता प्राप्त करने का यत्न नहीं करते। इसी से हमारे काम पूरे नहीं होते। हमारे हाथ से सब काम निकलते जाने का यही कारण है कि दूसरे उस काम को ज्यादा अच्छी तरह करते हैं और हम स्वयं भी यही मान बैठते हैं। यदि अपने काम को अच्छी तरह समझकर उसमें दक्षता हासिल कर लें तो हम अपनी और अपने काम दोनों की उन्नति कर सकते हैं। कार्यकुशलता बढ़ा सकते हैं। कार्यकुशलता बड़े-छोटे का भेद नहीं जानती। जो कार्य-कुशल होगा वह आरंभ में कितना ही छोटा क्यों न हो, अवश्य उन्नति करेगा। कार्य-कौशल का प्रधान अंग परिश्रम है।

कार्यकुशलता का पहला अंग किसे माना गया है?

- कार्य को समय से पहले निर्धारित कर उसे अच्छी तरह समझना
- पहले कार्य उठाकर फिर उसे लगातार करते रहना
- यहाँ वहाँ से पूछकर किसी प्रकार अपना कार्य कर लेना
- असफलता मिलने पर कार्य को बदल देना

Correct Answer :-कार्य को समय से पहले निर्धारित कर उसे अच्छी तरह समझना

4)

Question Stimulus :-

निर्देश: निम्नोक्त गद्यांश पढ़कर दिये गये प्रश्नों के उत्तर दीजिए:

कार्यकुशलता का पहला अंग तो यह है कि हम अपने कार्य को समय से पहले निर्धारित कर उसे अच्छी तरह जानें। हममें अधिकतर लोग कार्य उठा तो लेते हैं पर उसे अच्छी तरह जानते नहीं और न जानने का यत्न ही करते हैं। सफलता नहीं मिलने पर हम अपने दोष न देखकर दूसरे को दोष देते हैं और बार-बार कार्य बदलते रहते हैं। छोटे-छोटे कामों में भी यह देखा जाता है कि अधिकतर हम जो काम करते हैं उसमें पूरे तौर से योग्यता और निपुणता प्राप्त करने का यत्न नहीं करते। इसी से हमारे काम पूरे नहीं होते। हमारे हाथ से सब काम निकलते जाने का यही कारण है कि दूसरे उस काम को ज्यादा अच्छी तरह करते हैं और हम स्वयं भी यही मान बैठते हैं। यदि अपने काम को अच्छी तरह समझकर उसमें दक्षता हासिल कर लें तो हम अपनी और अपने काम दोनों की उन्नति कर सकते हैं। कार्यकुशलता बढ़ा सकते हैं। कार्यकुशलता बड़े-छोटे का भेद नहीं जानती। जो कार्य-कुशल होगा वह आरंभ में कितना ही छोटा क्यों न हो, अवश्य उन्नति करेगा। कार्य-कौशल का प्रधान अंग परिश्रम है।

लेखक ने कार्य कुशलता का प्रधान अंग माना है:

- आत्म विश्वास
- परिश्रम
- लगातार अभ्यास
- दृढ निश्चय

Correct Answer :-परिश्रम

5)

Question Stimulus :-

निर्देश: निम्नोक्त गद्यांश पढ़कर दिये गये प्रश्नों के उत्तर दीजिए:

कार्यकुशलता का पहला अंग तो यह है कि हम अपने कार्य को समय से पहले निर्धारित कर उसे अच्छी तरह जानें। हममें अधिकतर लोग कार्य उठा तो लेते हैं पर उसे अच्छी तरह जानते नहीं और न जानने का यत्न ही करते हैं। सफलता नहीं मिलने पर हम अपने दोष न देखकर दूसरे को दोष देते हैं और बार-बार कार्य बदलते रहते हैं। छोटे-छोटे कामों में भी यह देखा जाता है कि अधिकतर हम जो काम करते हैं उसमें पूरे तौर से योग्यता और निपुणता प्राप्त करने का यत्न नहीं करते। इसी से हमारे काम पूरे नहीं होते। हमारे हाथ से सब काम निकलते जाने का यही कारण है कि दूसरे उस काम को ज्यादा अच्छी तरह करते हैं और हम स्वयं भी यही मान बैठते हैं। यदि अपने काम को अच्छी तरह समझकर उसमें दक्षता हासिल कर लें तो हम अपनी और अपने काम दोनों की उन्नति कर सकते हैं। कार्यकुशलता बढ़ा सकते हैं। कार्यकुशलता बड़े-छोटे का भेद नहीं जानती। जो कार्य-कुशल होगा वह आरंभ में कितना ही छोटा क्यों न हो, अवश्य उन्नति करेगा। कार्य-कौशल का प्रधान अंग परिश्रम है।

गद्यांश का उपयुक्त शीर्षक है:

- हमारी असफलता के विचारणीय कारण और निराकरण
- सफल होने के महत्त्वपूर्ण पहलू
- कार्य कुशलता
- उन्नति और विकास का मूल-मंत्र

Correct Answer :-कार्य कुशलता

Topic:- General Knowledge

1)

Question Stimulus :-

Om Prakash Kohli, who was recently sworn in as the acting governor of Madhya Pradesh as addition charge, is the present governor of: / ओम प्रकाश कोहली ने हाल ही में मध्यप्रदेश के कार्यकारी राज्यपाल पद की शपथ ली है, वे वर्तमान में कौन से राज्य के राज्यपाल हैं?

- Maharashtra/ महाराष्ट्र



- Rajasthan/ राजस्थान
- Punjab/ पंजाब
- Gujarat/ गुजरात

Correct Answer :-Gujarat/ गुजरात

2)

Question Stimulus :-

Solung festival is associated with which of the following states?/ सोलुंग पर्व निम्न में से किस राज्य से संबंधित है?

- Himachal Pradesh/ हिमाचल प्रदेश
- Jharkhand/ झारखंड
- Arunachal Pradesh/ अरुणाचल प्रदेश
- Chhattisgarh/ छत्तीसगढ़

Correct Answer :-Arunachal Pradesh/ अरुणाचल प्रदेश

3)

Question Stimulus :-

The National Ayurveda Day 2016 was observed on:/ वर्ष 2016 में राष्ट्रीय आयुर्वेद दिवस कब मनाया गया था?

- 21 October/ 21 अक्टूबर
- 27 October/ 27 अक्टूबर
- 28 October/ 28 अक्टूबर
- 29 October/ 29 अक्टूबर

Correct Answer :-28 October/ 28 अक्टूबर

4)

Question Stimulus :-

In which district of Madhya Pradesh is opium grown?/ मध्य प्रदेश के कौन-से जिले में अफीम उगाई जाती है?

- Mandsaur/ मंदसौर
- Shivpuri/ शिवपुरी
- Sagar/ सागर
- Bilaspur/ बिलासपुर

Correct Answer :-Mandsaur/ मंदसौर

5)

Question Stimulus :-

“Beena” is famous for:/ बीना नगर प्रसिद्ध है:

- Oil refinery / तेल शुद्धिकरण कारखाना
- Fertilizer industry/ उर्वरक कारखाना
- Bio fertilizer equipment/ जैव उर्वरक संयंत्र
- Note press industry/ नोट प्रेस कारखाना

Correct Answer :-Oil refinery / तेल शुद्धिकरण कारखाना

6)

Question Stimulus :-

Who among the following had written many devotional songs for Nirguna God?/ निम्न में से किसने निर्गुण भगवान के लिये बहुत सारी रचना की है?

- Alha and Udal/ आल्हा और ऊदल
- Saint Singhaji संत सिंगाजी
- Saint Meera/ संत मीरा
- Devi/ देवी

Correct Answer :-Saint Singhaji संत सिंगाजी

7)

Question Stimulus :-

The host of 2018 FIFA World Cup will be:/ फ़ीफा विश्वकप 2018 की मेजबानी किस देश के द्वारा की जायेगी?

- Australia/ ऑस्ट्रेलिया
- Spain/ स्पेन
- Russia/ रूस
- Brazil/ ब्राज़ील

Correct Answer :-Russia/ रूस

8)

Question Stimulus :-

Football player Miroslav Klose was played for which country? / फुटबॉल खिलाड़ी मिरोस्लाव क्लोसे किस देश के लिय खेलते थे?

- France/ फ़्रांस
- Argentina/ अर्जेटीना
- Brazil/ ब्राज़ील
- Germany/ जर्मनी

Correct Answer :-Germany/ जर्मनी

9)

Question Stimulus :-

Name the Indian lawyer who has been elected by the UN General Assembly as one of the members of the International Law Commission./ उस भारतीय अधिवक्ता का नाम बताइये जिसे संयुक्त राष्ट्र साधारण सभा ने अंतरराष्ट्रीय विधि आयोग का सदस्य नियुक्त किया है ।

- Prashant Bhushan/ प्रशांत भूषण
- Mukul Rohatgi/ मुकुल रोहतगी
- Gopal Subramaniam/ गोपाल सुब्रमण्यम
- Aniruddha Rajput/ अनिरुद्ध राजपूत

Correct Answer :-Aniruddha Rajput/ अनिरुद्ध राजपूत

10)

Question Stimulus :-

Mother Teresa was recently declared a saint by Pope Francis in Vatican City. The 12 member central delegation from India to the ceremony was led by:/ वेटिकन नगर में पोप फ्रांसिस ने मद्र टेरेसा को संत घोषित किया है, इस आयोजन में भारत से 12 सदस्यों का दल किसके नेतृत्व में गया था?

- Sushma Swaraj/ सुषमा स्वराज
- Rajnath Singh/ राजनाथ सिंह
- Arun Jaitley/ अरुण जेटली
- Ananth Kumar/ अनंत कुमार

Correct Answer :-Sushma Swaraj/ सुषमा स्वराज

11)

Question Stimulus :-

Central western region of Madhya Pradesh is also known as:/ मध्यप्रदेश का पश्चिमी मध्य क्षेत्र को \_\_\_\_\_ भी कहा जाता है

- Central India Plateau/ मध्य भारत पठार
- Malwa Plateau/ मालवा पठार
- Rewa Panna Plateau/ रीवा पन्ना पठार
- Narmada son valley/ नर्मदा सन घाटी

Correct Answer :-Malwa Plateau/ मालवा पठार

12)

Question Stimulus :-

'Ghotul' is:/ घोटुल क्या है?

- Home where boys live/ वह घर जहाँ लड़के रहते हैं
- Common house of girls and boys/ लड़के व लड़कियों के लिये एक घर
- Home where girls live/ वह घर जहाँ लड़कियाँ रहती हैं
- None of the above/ उपरोक्त में से कोई नहीं

Correct Answer :-Common house of girls and boys/ लड़के व लड़कियों के लिये एक घर

13)

Question Stimulus :-

In Madhya Pradesh caves like Ajanta are found at:/ मध्य प्रदेश में अजंता के समान गुफाएँ कहाँ पाई जाती हैं?

- Bagh (Dhar)/ बाघ (धार)
- Udaygiri (Vidisha)/ उदयगिरि (विदिशा)
- Mandu/ मांडू
- None of the above/ उपरोक्त में से कोई नहीं

Correct Answer :-Bagh (Dhar)/ बाघ (धार)

14)

Question Stimulus :-

The Uttar Pradesh govt. has appointed who among the following as the brand ambassador of its flagship programme "Samajwadi Kisan Beema Yojana"?/ उत्तर प्रदेश सरकार ने हाल ही में किसे "समाजवादी किसान बीमा योजना" का ब्रांड एम्बेसडर नियुक्त किया है?

- Nawazuddin Siddiqui/ नवाजुद्दीन सिद्दीकी
- Vidya Balan/ विद्या बालन
- Amitabh Bachchan/ अमिताभ बच्चन

- Irrfan Khan/ इरफान खान

Correct Answer :-Nawazuddin Siddiqui/ नवाजुद्दीन सिद्दीकी

15)

Question Stimulus :-

Which of the following districts of the Madhya Pradesh shows the population lowest growth rate (according to census 2011)?/ मध्यप्रदेश के किस जिले में जनसंख्या वृद्धि दर सबसे कम दर्ज की गई (जनगणना 2011 के अनुसार)?

- Betul/ बैतूल
- Chhindwara/ छिंदवाड़ा
- Mandsaur/ मंदसौर
- Anuppur/ अनूपपुर

Correct Answer :-Anuppur/ अनूपपुर

16)

Question Stimulus :-

Subroto Cup is associated with which of the following games?/ सुब्रतो कप निम्न में से किस खेल से संबंधित है?

- Hockey/ हॉकी
- Football/ फुटबॉल
- Cricket/ क्रिकेट
- Badminton/ बैडमिंटन

Correct Answer :-Football/ फुटबॉल

17)

Question Stimulus :-

India's Saurav Ghosal is associated with which of the following games?/ भारत के सौरव घोषाल निम्न में से किस खेल से संबंधित है?

- Squash/ स्कवैश
- Tennis/ टेनिस
- Table Tennis/ टेबल टेनिस
- Badminton/ बैडमिंटन

Correct Answer :-Squash/ स्कवैश

18)

Question Stimulus :-

Which of the following parties was recently recognised by the Election Commission of India as a National Party?/ निम्न में से किस दल को हाल ही में भारतीय चुनाव आयोग ने राष्ट्रीय दल का दर्जा प्रदान किया है?

- Biju Janata Dal/ बीजू जनता दल
- Janata Dal (United)/ जनता दल (यूनाइटेड)
- Janata Dal (Secular)/ जनता दल (सेकुलर)
- Trinamool Congress/ तृणमूल काँग्रेस

Correct Answer :-Trinamool Congress/ तृणमूल काँग्रेस

19)

Question Stimulus :-

The United Nations Day is observed every year on:/ प्रत्येक वर्ष किस दिन सयुंक्त राष्ट्र दिवस मनाया जाता है?

- 17 October/ 17 अक्टूबर
- 20 October/ 20 अक्टूबर
- 24 October/ 24 अक्टूबर
- 27 October/ 27 अक्टूबर

Correct Answer :-24 October/ 24 अक्टूबर

20)

Question Stimulus :-

Industrial capital of Madhya Pradesh is:/ किस नगर को मध्य प्रदेश की औद्योगिक राजधानी कहा जाता है ?

- Bhopal/ भोपाल
- Indore/ इंदौर
- Vidisha/ विदिशा
- Jabalpur/ जबलपुर

Correct Answer :-Indore/ इंदौर

21)

Question Stimulus :-

Which of the following project is built on the Son River?/ निम्न में से कौन सी परियोजना सोन नदी पर बनाई गई है?

- Halali Project/ हलाली परियोजना

- Rajghat Project/ राजघाट परियोजना
- Ban Sagar Project/ बाण सागर परियोजना
- All of the above / उपरोक्त सभी

Correct Answer :-Ban Sagar Project/ बाण सागर परियोजना

22)

Question Stimulus :-

The 2016 Summer Paralympic Games was held on 7<sup>th</sup> Sep 2016 in which of the following cities?/ निम्न में से किस नगर में 7 सितंबर 2016 को ग्रीष्मकालीन पैरालम्पिक खेलों का आयोजन हुआ?

- Tokyo, Japan/ टोक्यो, जापान
- Kuala Lumpur, Malaysia/ कुआला लम्पुर, मलेशिया
- Pyeong Chang, South Korea/ प्योंगचंग दक्षिण, कोरिया
- Rio de Janeiro, Brazil/ रियो डी जनेरो, ब्राज़ील

Correct Answer :-Rio de Janeiro, Brazil/ रियो डी जनेरो, ब्राज़ील

23)

Question Stimulus :-

What is India's ranking on '2016 Global Youth Development Index' compiled by the Commonwealth Secretariat?/ राष्ट्रमंडल सचिवालय द्वारा जारी '2016 वैश्विक युवा विकास सूचकांक' में भारत कौन से पायदान पर है?

- 10<sup>th</sup>/ 10 वें
- 31<sup>st</sup>/ 31 वें
- 69<sup>th</sup>/ 69 वें
- 133<sup>th</sup>/ 133 वें

Correct Answer :-133<sup>th</sup>/ 133 वें

24)

Question Stimulus :-

Who among the following has/have won the Nobel Prize 2016 for Economic Sciences?/ निम्न में से कौन अर्थशास्त्र विज्ञान के लिए नोबल पुरस्कार 2016 का/के विजेता है/हैं?

- Bengt Holmstrom/ बेंट होमस्ट्रॉम
- Oliver Hart/ ओलिवर हार्ट
- Angus Deaton/ एंगस डीटन

- Bengt Holmstrom and Oliver Hart both/ दोनों बेंट होमस्ट्रॉम और ओलिवर हार्ट

Correct Answer :-Bengt Holmstrom and Oliver Hart both/ दोनों बेंट होमस्ट्रॉम और ओलिवर हार्ट

25)

Question Stimulus :-

Which of the following place is famous for its stone carvings?/ निम्न में से कौन-सा स्थान इसकी शैल कलाओं के लिए प्रसिद्ध है?

- Vidisha/ विदिशा
- Khajuraho/ खजुराहो
- Gwalior/ ग्वालियर
- All of these/ उपरोक्त सभी

Correct Answer :-All of these/ उपरोक्त सभी

26)

Question Stimulus :-

Which of the dance drama is devoted to Lord Meghnad?/ निम्न में से कौन-सा नृत्य मेघनाद देवता को अर्पित होता है?

- Khamb Swang/ खंब स्वांग
- Manch/ मांच
- Gammat/ गम्मत
- Chahur/ चहुर

Correct Answer :-Khamb Swang/ खंब स्वांग

27)

Question Stimulus :-

Which of the festival is also named by Chherta festival?/ निम्न में से कौन-से पर्व को छेत्रा पर्व के नाम से भी जानते हैं?

- Sugga dance festival/ सुग्गा नृत्य पर्व
- Khichharahi festival/ खिचरही पर्व
- Govardhan festival/ गोवर्धन पर्व
- Jhansi festival/ झाँसी पर्व

Correct Answer :-Khichharahi festival/ खिचरही पर्व

28)



Question Stimulus :-

The amended Prohibition of Benami Property Transactions, Act, 1988, will come into effect from:/ बेनामी संपत्ति लेनदेन निषेध अधिनियम 1988 का संशोधित रूप किस दिनांक से प्रभाव में आयेगा?

- 1 November 2016/ 1 नवंबर 2016
- 1 December 2016/ 1 दिसंबर 2016
- 1 March 2017/ 1 मई 2017
- 1 April 2017/ 1 अप्रैल 2017

Correct Answer :-1 November 2016/ 1 नवंबर 2016

29)

Question Stimulus :-

Kathi is the folk dance of:/ काठी किस स्थान का लोक नृत्य है?

- Malwa/ मालवा
- Baghelkhand/ बघेलखंड
- Bundelkhand/ बुंदेलखंड
- Nimar/ निमाड़

Correct Answer :-Nimar/ निमाड़

30)

Question Stimulus :-

Mark the correct pair in regarding to the natural boundaries of MP?/ मध्य प्रदेश की प्राकृतिक सीमा के संदर्भ में कौन-सा युग्म सत्य है ?

- Chambal-North/ चंबल -उत्तरी
- Tapti-South/ताप्ती-दक्षिण
- Maikal hills -Eas/t/मैकल पर्वत - पूर्वी
- All are correct/उपरोक्त सभी

Correct Answer :-All are correct/उपरोक्त सभी

Topic:- General Science

1)

Question Stimulus :-

Vitamin A, D & C are respectively called as \_\_\_\_\_?/ विटामिन A, D व C के क्रमशः रासायनिक नाम चुनिये।

- Retinol, Ascorbic Acid, Calciferol /रेटिनोल, एस्कोर्बिक अम्ल,केल्सिफेरोल

- Retinol, Calciferol, Ascorbic Acid / रेटिनोल, केल्सिफेरोल, एस्कोर्बिक अम्ल
- Pyridoxin , Calciferol. Ascorbic Acid / पायरिडोक्सिन,केल्सिफेरोल एस्कोर्बिक अम्ल
- Retinol, Calciferol, Pyridoxin/ रेटिनोल, केल्सिफेरोल, पायरिडोक्सिन

Correct Answer :-Retinol, Calciferol, Ascorbic Acid / रेटिनोल, केल्सिफेरोल, एस्कोर्बिक अम्ल

2)

Question Stimulus :-

The vestiges of hind limbs are present in:/ किस जन्तु मे पशुपाद का अवशेष पाया जाता है?

- Cobra/ कोबरा
- Sea snake/ समुद्री साँप
- King Cobra/ किंग कोबरा
- Python/ अजगर

Correct Answer :-Python/ अजगर

3)

Question Stimulus :-

Which of the following elements is a metal?/ निम्न में से कौन-सा तत्व एक धातु है?

- S
- Se
- I
- Ga

Correct Answer :-Ga

4)

Question Stimulus :-

Ozone hole refers to:/ ओज़ोन छिद्र से तात्पर्य है?

- Hole in ozone layer/ ओज़ोन परत में छिद्र
- Decrease in the ozone layer in troposphere/ क्षोभमंडल में उपस्थित ओज़ोन परत का कम होना
- Decrease in thickness of ozone layer in stratosphere/ समताप मण्डल में उपस्थित ओज़ोन परत का कम होना
- Increase in the thickness of ozone layer in troposphere/ क्षोभमंडल मे उपस्थित ओज़ोन परत का अधिक होना

**Correct Answer :-Decrease in thickness of ozone layer in stratosphere/ समताप मण्डल में उपस्थित ओज़ोन परत का कम होना**

5)

**Question Stimulus :-**

**The focal length of a concave lens is always \_\_\_\_\_./ एक अवतल लेंस के फोकल दूरी हमेशा \_\_\_\_\_ होती है।**

- **Always negative/ नकारात्मक**
- **Always positive/ सकारात्मक**
- **Either positive or negative/ या तो सकारात्मक या नकारात्मक**
- **Neither positive nor negative/ न नकारात्मक ना ही धनात्मक**

**Correct Answer :-Always negative/ नकारात्मक**

6)

**Question Stimulus :-**

**The concept of carbon credit originated from which one of the following?/ कार्बन क्रेडिट का सिद्धांत किस सम्मेलन से आया था?**

- **Earth Summit/ पृथ्वी सम्मेलन**
- **Kyoto Protocol/ क्योटो प्रोटोकॉल**
- **Montreal Protocol/ मॉन्ट्रियल प्रोटोकॉल**
- **G-8 Summit 2005/ जी-8 सम्मेलन 2005**

**Correct Answer :-Kyoto Protocol/ क्योटो प्रोटोकॉल**

7)

**Question Stimulus :-**

**Which of the following disease is not caused by bacteria?/ निम्न में से कौन-सा रोग जीवाणु के कारण से नहीं होता है?**

- **Whooping Cough/ काली खांसी**
- **Typhoid / टाइफाइड**
- **Malaria / मलेरिया**
- **Typhoid/ टाइफाइड**

**Correct Answer :-Malaria / मलेरिया**

8)

Question Stimulus :-

Which of the following parts of the sun is easily visible only during a complete solar eclipse? / पूर्ण सूर्य ग्रहण के समय सूर्य का कौन-सा भाग पृथ्वी से आसानी से दिखाई देता है?

- Core/ कोर
- Photosphere/फोटोस्फियर
- Sunspots/ सौरधब्बे
- Corona/ कोरोना

Correct Answer :-Corona/ कोरोना

9)

Question Stimulus :-

Defect of colour blindness can be remedied by the use of:/ वर्णांधता को किस उपाय से ठीक किया जा सकता है?

- Concave lens/ अवतल लेंस
- Convex lens/ उत्तल लेंस
- Cylindrical lens/ बेलनाकार लेंस
- None of the above/ उपरोक्त में से कोई नहीं

Correct Answer :-None of the above/ उपरोक्त में से कोई नहीं

10)

Question Stimulus :-

In which of the following elements is not included in structural elements:/ निम्न में से कौन-सा तत्व संरचनात्मक तत्वों में नहीं आता?

- Carbon/ कार्बन
- Oxygen/ ऑक्सीजन
- Nitrogen/ नाइट्रोजन
- All are structural elements/ सभी संरचनात्मक तत्व हैं

Correct Answer :-All are structural elements/ सभी संरचनात्मक तत्व हैं

11)

Question Stimulus :-

Chlorophyll is a naturally occurring chelate compound in which central metal is:/ क्लोरोफिल एक प्राकृतिक चीलेट है, इसके केंद्र में कौन-सी धातु होती है?

- Copper/ तांबा
- Magnesium/ मैग्नीशियम
- Iron/ लोहा
- Calcium/ कैल्शियम

Correct Answer :-Magnesium/ मैग्नीशियम

12)

Question Stimulus :-

Ohm is a unit of measuring \_\_\_\_\_. /ओह्म, \_\_\_\_\_ मापने की एक इकाई है।

- Resistance/ प्रतिरोध
- Voltage/ वोल्टेज
- Current/ धारा
- Magnetic field /चुंबकीय क्षेत्र

Correct Answer :-Resistance/ प्रतिरोध

13)

Question Stimulus :-

Which among the following disease is caused by Yersinia pestis?/ येरसीनिया पेस्टिस निम्नलिखित में से किस रोग का कारण है?

- Leprosy/ कुष्ठ रोग
- Anthrax/ बिसहरिया
- Plague/ प्लेग
- Cholera/ हैजा

Correct Answer :-Plague/ प्लेग

14)

Question Stimulus :-

The smallest functional and structural unit of kidney is called as:/ वृक्क की सबसे छोटी संरचनात्मक व कार्यात्मक इकाई कहलाती है:

- Neuron/ न्यूरोन
- Nephron/ नेफ्रोन
- Granulocyte/ ग्रन्युलोसाइट

- Reticulocyte/ रेटीकुलोसाइट

Correct Answer :-Nephron/ नेफ्रोन

15)

Question Stimulus :-

When a gas is turned into a liquid, the process is called:/ जब गैस, तरल में परिवर्तित होता है, उस प्रक्रिया को क्या कहते हैं?

- Condensation/ संघनन
- Evaporation/ वाष्पीकरण
- Deposition/ निक्षेपण
- Sublimation/ ऊर्ध्वपातन

Correct Answer :-Condensation/ संघनन

16)

Question Stimulus :-

Which one of the following is the largest terrestrial wild animal?/ निम्न में से कौन-सा जन्तु सबसे बड़ा स्थलीय जीव है?

- Indian elephant/ भारतीय हाथी
- African elephant/ अफ्रीकी हाथी
- Blue whale / नीली व्हेल
- White tiger/ सफ़ेद बाघ

Correct Answer :-African elephant/ अफ्रीकी हाथी

17)

Question Stimulus :-

A gas used as a disinfectant in drinking water is:/ एक गैस जिसका उपयोग जल को कीटाणु मुक्त (शुद्ध) करने के लिए किया जाता है, वह है:

- Hydrogen/ हाइड्रोजन
- Oxygen/ ऑक्सीजन
- Fluorine/ फ्लुओरिन
- Chlorine/ क्लोरीन

Correct Answer :-Chlorine/ क्लोरीन

18)

Question Stimulus :-

Athlete's Foot or *Tinia Pedis* is caused by which of the following?/ निम्न में से कौन एथलीट फूट या टीनिया पेडिस का कारण होता है?

- A Bacteria/ एक जीवाणु
- A Virus/ एक विषाणु
- A Fungi/ एक कवक
- A Protista/ एक प्रोटेस्टा

Correct Answer :-A Fungi/ एक कवक

19)

Question Stimulus :-

Which among the following is called anti sterility vitamin?/ निम्नलिखित में से कौन-सा नपुंसकता विरोधी विटामिन कहा जाता है?

- Vitamin-D/ विटामिन-डी
- Vitamin-A/ विटामिन-ए
- Vitamin-E/ विटामिन-ई
- Vitamin-K/ विटामिन-के

Correct Answer :-Vitamin-E/ विटामिन-ई

20)

Question Stimulus :-

The gas predominantly responsible for global warming is:/ कौन-सी गैस वैश्विक तापक्रम वृद्धि (ग्लोबल वार्मिंग) के लिए मुख्य रूप से उत्तरदायी है?

- Carbon dioxide/ कार्बन डाइऑक्साइड
- Carbon monoxide/ कार्बन मोनोऑक्साइड
- Nitrous oxide/ नाइट्रस ऑक्साइड
- Nitrogen peroxide/ नाइट्रोजन परऑक्साइड

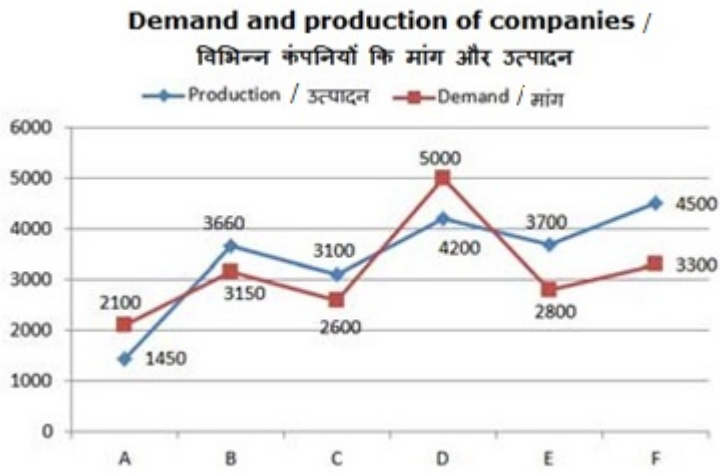
Correct Answer :-Carbon dioxide/ कार्बन डाइऑक्साइड

Topic:- RC\_Quantitative Aptitude

1)

Question Stimulus :-

DIRECTIONS: Study the following graph carefully to answer the question given below?/ निर्देश: निम्नलिखित ग्राफ का ध्यानपूर्वक अध्ययन कर नीचे दिये गये प्रश्नों के उत्तर दीजिये?



What is the ratio of the companies having more demand than production to those having more production than demand?/कम्पनियों जिनकी मांग उत्पादन से ज्यादा है का उन कम्पनियों जिनका उत्पादन मांग से ज्यादा है से क्या अनुपात है?

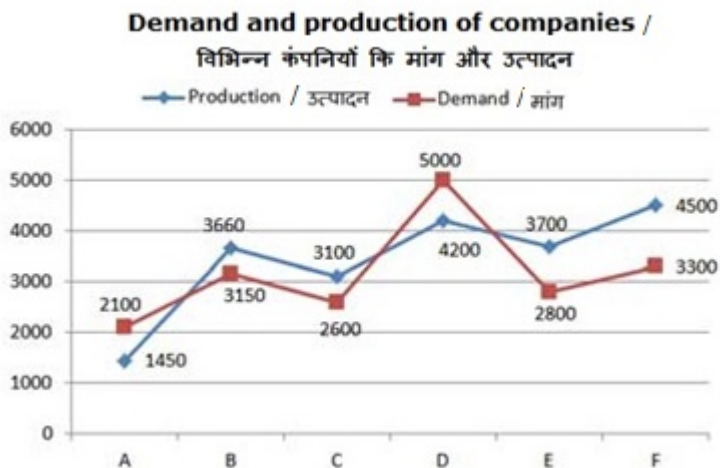
- 1:2
- 2:3
- 2:1
- 3:2

Correct Answer :-1:2

2)

Question Stimulus :-

**DIRECTIONS:** Study the following graph carefully to answer the question given below?/  
**निर्देश:** निम्नलिखित ग्राफ का ध्यानपूर्वक अध्ययन कर नीचे दिये गये प्रश्नों के उत्तर दीजिये?



What is the approximate difference between the average demand and average production the companies?/ कम्पनियों की औसत मांग और औसत उत्पादन के बीच लगभग कितना अंतर है?

- 205
- 252
- 277

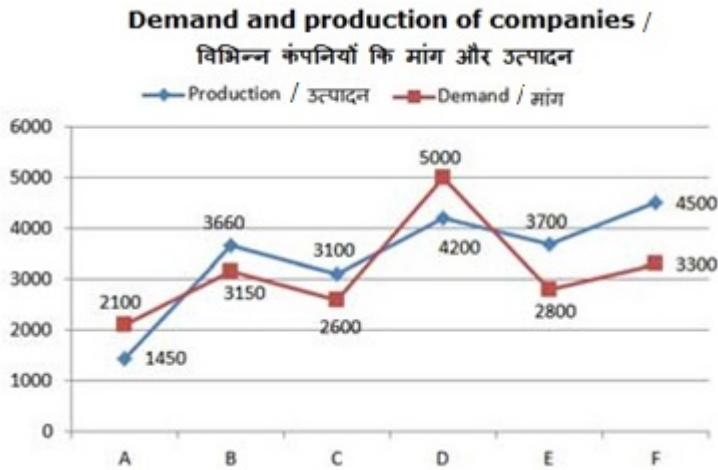


Correct Answer :-277

3)

Question Stimulus :-

**DIRECTIONS:** Study the following graph carefully to answer the question given below?/  
निर्देश: निम्नलिखित ग्राफ का ध्यानपूर्वक अध्ययन कर नीचे दिये गये प्रश्नों के उत्तर दीजिये?



The demand of company B is what percentage of the production of company F?/ कम्पनी B की मांग कंपनी F के उत्पादन का कितने प्रतिशत है?

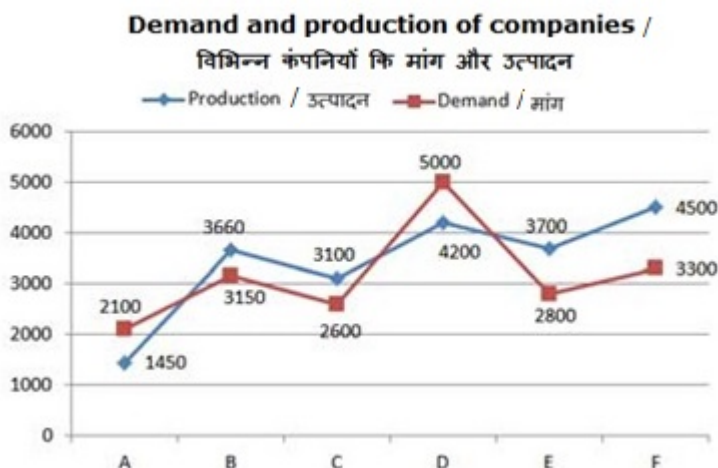
- 50%
- 70%
- 80%
- 60%

Correct Answer :-70%

4)

Question Stimulus :-

**DIRECTIONS:** Study the following graph carefully to answer the question given below?/  
निर्देश: निम्नलिखित ग्राफ का ध्यानपूर्वक अध्ययन कर नीचे दिये गये प्रश्नों के उत्तर दीजिये?



The production of company A is approximately what percent of the demand of company C? / कम्पनी A का उत्पादन कम्पनी C की मांग का लगभग कितने प्रतिशत है?

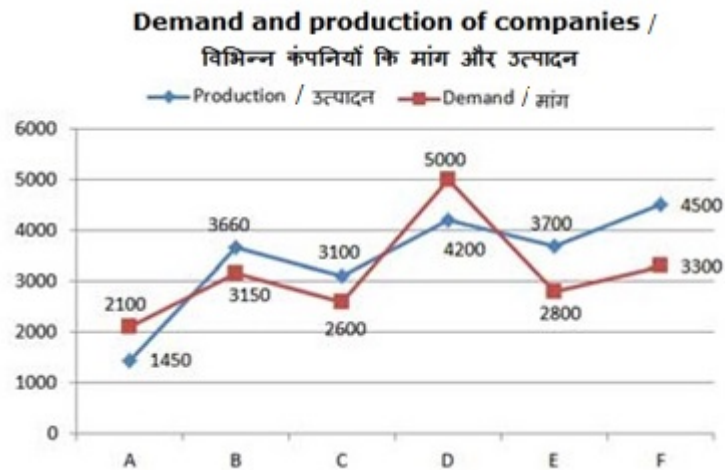
- 50%
- 55%
- 60%
- 65%

Correct Answer :-55%

5)

Question Stimulus :-

**DIRECTIONS:** Study the following graph carefully to answer the question given below? / निर्देश: निम्नलिखित ग्राफ का ध्यानपूर्वक अध्ययन कर नीचे दिये गये प्रश्नों के उत्तर दीजिये?



The production of companies C and D taken together is what approximate percent of the total demand of A and E? कम्पनी C और D का कुल उत्पादन A और E की कुल मांग का लगभग कितने प्रतिशत है?

- 80%
- 100%
- 120%
- 150%

Correct Answer :-150%

Topic:- Quantitative Aptitude

1)

Question Stimulus :-

If the price of sugar is decreased by 25%, by what percent the consumption of sugar must be increase so that expenditure remains unchanged? / यदि शक्कर की कीमत में 25% की कमी होती है, तो शक्कर की खपत में कितने प्रतिशत की वृद्धि की जाए ताकि व्यय अपरिवर्तित रहे?

- 20%

- 25%
- $33\frac{1}{3}\%$
- 50%

Correct Answer :-  $33\frac{1}{3}\%$

2)

Question Stimulus :-

A merchant bought 200 eggs, of which 38 got broken. He sold the remaining eggs at the rate of ₹4.80 per dozen and thus gained 8%. His cost price per dozen is: / एक व्यापारी ने 200 अंडे खरीदे, जिसमें से 38 टूट गए। शेष अंडे उसने ₹4.80 प्रति दर्जन की दर से बेच दिए और इस प्रकार उसे 8% का लाभ हुआ। उसका प्रति दर्जन क्रय मूल्य है:

- ₹120
- ₹80
- ₹60
- ₹45

Correct Answer :- ₹60

3)

Question Stimulus :-

Two trains measuring 120 metre and 180 metre cross each other completely in 10 seconds when running in opposite directions and the faster train takes 30 second to cross the slower train when the two trains are running in the same direction. Find the speed of the faster train. / 120 मीटर और 180 मीटर लम्बाई की दो ट्रेनें जब एक दूसरे की विपरीत दिशा में चलती हैं तो वे एक दूसरे को 10 सेकेण्ड में पूर्णतः पार कर जाती हैं। लेकिन जब वे समान दिशा में चलती हैं। तो तीव्र गति वाली ट्रेन मंदगति वाली ट्रेन को 30 सेकेण्ड में पार कर जाती है। तीव्र गति वाले ट्रेन की गति ज्ञात करें।

- 39 km/h / 39 किमी/घंटा
- 36 km/h / 36 किमी/घंटा
- 54 km/h / 54 किमी/घंटा
- 72 km/h / 72 किमी/घंटा

Correct Answer :- 72 km/h / 72 किमी/घंटा

4)

Question Stimulus :-

A and B can do a work in 45 and 40 days respectively. They began the work together, but A left after some time and B finishes the remaining work in 23 days. After how many days did A leave? / A और B एक काम को क्रमशः 45 और 40 दिन में कर सकते हैं। दोनों एकसाथ कार्य प्रारम्भ करते हैं, किंतु कुछ समय पश्चात A काम छोड़ देता है, शेष काम B अकेले 23 दिन में समाप्त कर देता है। A ने कितने दिन बाद काम छोड़ा था?

- 8 days/ 8 दिन
- 7 days/ 7 दिन
- 6 days/ 6 दिन
- 9 days/ 9 दिन

Correct Answer :-9 days/ 9 दिन

5)

Question Stimulus :-

Average of 11 numbers is 36, whereas average of 9 of them is 34. If the remaining two numbers are in the ratio 2:3, then find the value of the smallest number (between remaining two numbers)./ 11 संख्याओं का औसत 36 है, जबकि उनमें से 9 का औसत 34 है। यदि शेष दो संख्याओं का अनुपात 2:3 हो, तो न्यूनतम संख्या का (शेष दो संख्याओं के बीच) मान बताइए।

- 36
- 45
- 48
- 54

Correct Answer :-36

6)

Question Stimulus :-

Walking at  $\frac{3}{4}$  of her normal speed Malleshwari takes 2 hours more than the normal time to reach the destination. What is her normal time?/अपनी सामान्य चाल की  $\frac{3}{4}$  चाल से चलते हुए मल्लेश्वरी अपने गंतव्य तक पहुँचने में सामान्य समय से दो घंटा अधिक लेती है, तो उसका सामान्य समय क्या है?

- 4 hours/ 4 घंटे
- 5 hours/ 5 घंटे
- 6 hours/ 6 घंटे
- 8 hours/ 8 घंटे

Correct Answer :-6 hours/ 6 घंटे

7)

Question Stimulus :-

The first class ticket price of a circus is `12. When the price is decreased then the number of visitors increased by 80% and the total income is increased by 20%. Now, what is the price of each ticket?/ एक सर्कस की प्रथम श्रेणी की टिकट का मूल्य `12 है। जब मूल्य कम किया गया तो दर्शकों की संख्या में 80% वृद्धि हुई और कुल आय में 20% वृद्धि हुई। अब प्रत्येक टिकट का मूल्य क्या है?

- 8
- 10
- 6
- 15

Correct Answer :-8

8)

Question Stimulus :-

The ratio of two liquids in a mixture is 3 : 5 and that in another mixture is 6:1. In what ratio these two mixtures must be mixed so as to make the ratio of the two liquids 7:3?/ एक मिश्रण में दो द्रवों का अनुपात 3:5 है और दूसरे मिश्रण में 6:1 है । इन दो मिश्रणों को किस अनुपात में मिलाना चाहिए कि दो द्रवों का अनुपात 7:3 हो जाए?

- 44 : 61
- 44 : 71
- 44 : 81
- 44 : 91

Correct Answer :-44 : 91

9)

Question Stimulus :-

If  $(2x + 3y) : (3x + 5y) = 18 : 29$  then  $x : y$  is equal to:/ यदि  $(2x + 3y) : (3x + 5y) = 18 : 29$  तो  $x : y$  बराबर है-

- 2:3
- 3:4
- 3:5
- 1:5

Correct Answer :-3:4

10)

Question Stimulus :-

There is a path made around a circular park. If the difference of external and internal perimeters is 132 meter, then the width of the path is:/ किसी वृत्तकार उद्यान के चारों ओर एक समान चौड़ाई का एक पथ बना हुआ है । यदि इस वृत्ताकार पथ की आन्तरिक तथा बाह्य परिधियों का अन्तर 132 मीटर है, तो पथ की चौड़ाई है:

- 22 m / 22 मी
- 20 m / 20 मी
- 21 m / 21 मी

- 24 m / 24 मी

Correct Answer :-21 m / 21 मी

11)

Question Stimulus :-

Three wheels can complete 60, 36, 24 revolutions per minute respectively. There is red mark on each wheel that touches the ground at time zero. After how much time, all these spots will simultaneously touch the ground again?/तीन पहिये प्रति मिनट क्रमशः 60, 36 और 24 चक्कर पूर्ण कर सकते हैं। प्रत्येक पहिये पर एक लाल निशान है जो कि प्रारम्भ में सतह को स्पर्श करता है। कितने समय के पश्चात ये निशान दोबारा एक साथ सतह को स्पर्श करेंगे?

- $\frac{5}{2}$  second/ $\frac{5}{2}$  सेकण्ड
- $\frac{5}{3}$  second/ $\frac{5}{3}$  सेकण्ड
- 5 second/ 5 सेकण्ड
- 7.5 second/7.5 सेकण्ड

Correct Answer :-5 second/ 5 सेकण्ड

12)

Question Stimulus :-

If the sum of two numbers is 18 and sum of their square is 164 then the smallest number is:/ यदि दो संख्याओं का योग 18 और उनके वर्गों का योग 164 है, तो इनमें छोटी संख्या है-

- 8
- 6
- 12
- 10

Correct Answer :-8

13)

Question Stimulus :-

What will come in place of Question mark (?) in the following number series?/ निम्नलिखित संख्या प्रणाली में प्रश्नवाचक चिन्ह (?) के स्थान पर क्या आयेगा?

16, (?), 24, 12, 36

- 20
- 18
- 19

- 8

Correct Answer :-8

14)

Question Stimulus :-

If Ramesh tells Radha, that he has thought of 3-digit number in such a way that the sum of all of its digits happens to be a prime number. If based on this information only, Radha tries to find the sum of digits, what is the probability that she will find the sum in the first guess?/ यदि रमेश ने राधा से कहा कि उसने 3 अंक की एक ऐसी संख्या सोची है कि उसके सभी अंकों का योग एक अभाज्य संख्या है। यदि केवल इस सूचना के आधार पर राधा अंकों का योग प्राप्त करने की कोशिश करती है तो क्या प्रायिकता है कि वह पहले अनुमान में अंको का योग सही प्राप्त करेगी?

- $\frac{1}{8}$

- $\frac{1}{11}$

- $\frac{1}{9}$

- $\frac{1}{12}$

Correct Answer :- $\frac{1}{9}$

15)

Question Stimulus :-

Find the wrong term in the given series:/ दी हुई श्रेणी में गलत पद ज्ञात करें:

850, 843, 829, 808, 788, 745, 703

- 843
- 829
- 808
- 788

Correct Answer :-788

16)

Question Stimulus :-

If M% of x is y and N% of y is x, then:/ यदि x का M%, y है और y का N%, x है तब-

- $M + N = 100$
- $MN = 10000$

$$\bullet \frac{M}{N} = 100$$

$$\bullet \frac{N}{M} = 100$$

Correct Answer :-MN = 10000

17)

Question Stimulus :-

How many three letter words can be formed using only consonants of English alphabets but each only once?/ अंग्रेजी वर्णमाला के केवल व्यंजनों का एक ही बार प्रयोग करते हुए तीन अक्षर के कितने शब्द बनाये जा सकते हैं?

- 7980
- 15600
- 6
- None of these/इनमे से कोई नहीं

Correct Answer :-7980

18)

Question Stimulus :-

Three pipes A, B and C together can fill a cistern in 6 hours. After working together for 2 hours, C is closed and A and B fill the remaining cistern in 8 hours. Then the time in which the cistern can be filled by pipe C alone will be:/ तीन पाइप A, B और C एकसाथ एक टंकी को 6 घंटे में भर सकते हैं। दो घंटे एक साथ चलने के पश्चात C को बन्द कर दिया जाता है और A और B शेष टंकी को 8 घंटे में भर देते हैं। तो बताइए पाइप C अकेले टंकी को कितने समय में भर सकता है।

- 11 hours/ 11 घंटे
- 9 hours/ 9 घंटे
- 12 hours/ 12 घंटे
- 10 hours/ 10 घंटे

Correct Answer :-12 hours/ 12 घंटे

19)

Question Stimulus :-

Out of the total production of iron from hematite, an ore of iron, 20% of the ore gets wasted, and out of the remaining iron, only 25% is pure iron. If the pure iron obtained in a year from a mine of hematite was 80,000 kg, then the quantity of hematite mined from that mine in the year is:/लोहे के अयस्क हेमेटाइट की एक खान से उत्पादित कुल अयस्क का कुल 20% अयस्क खराब प्राप्त होता है, शेष अयस्क का केवल 25% शुद्ध लोहा होता है। यदि एक वर्ष में हेमेटाइट से 80,000 किग्रा शुद्ध लोहा प्राप्त होता है, तो 1 वर्ष में खान में से हेमेटाइट की कितनी मात्रा निकाली गयी?

- 5,00,000 kg/ 5,00,000 किग्रा



- 4,00,000 kg/ 4,00,000 किग्रा
- 4,50,000 kg/ 4,50,000 किग्रा
- None of these/इनमें से कोई नहीं

Correct Answer :-4,00,000 kg/ 4,00,000 किग्रा

20)

Question Stimulus :-

The rational numbers lying between  $\frac{1}{3}$  and  $\frac{3}{4}$  are:  $\frac{1}{3}$  और  $\frac{3}{4}$  के बीच की परिमेय संख्याएं है:

- $\frac{97}{300}, \frac{299}{500}$

- $\frac{99}{300}, \frac{301}{400}$

- $\frac{95}{300}, \frac{301}{400}$

- $\frac{117}{300}, \frac{287}{400}$

Correct Answer :- $\frac{117}{300}, \frac{287}{400}$

Topic:- RC\_Logical Reasoning

1)

Question Stimulus :-

**DIRECTIONS:** Study the following information carefully and answer the questions given below: /निर्देश: दी गई जानकारी को ध्यानपूर्वक पढ़ें और नीचे दिए गए प्रश्नों के उत्तर दें:

P, Q, R, S, T, U, V and W are sitting around a circle facing at the centre. T is second to the left of P and third of the right of V. S is second to the right of W who is to the immediate right of T. Q is third to the right of U. /P, Q, R, S, T, U, V और W एक वृत्त के चारों ओर केन्द्र की ओर मुख किये बैठे हैं। T, P के बाएं से दूसरे स्थान पर है और V के दाएं से तीसरे स्थान पर है। S, W के दाएं से दूसरे स्थान पर है, जो T के निकटतम दाएं है। Q, U के दाएं से तीसरे स्थान पर है।

In which of the following pairs is the third person sitting in between the first and the second persons? /निम्न में से किस जोड़े में, तीसरा व्यक्ति, पहले व्यक्ति और दूसरे व्यक्ति के बीच बैठा है?

- USP
- VRU
- WPS
- None of these/इनमें से कोई नहीं

Correct Answer :-None of these/इनमें से कोई नहीं

2)

**Question Stimulus :-**

**DIRECTIONS:** Study the following information carefully and answer the questions given below:/निर्देश: दी गई जानकारी को ध्यानपूर्वक पढ़ें और नीचे दिए गए प्रश्नों के उत्तर दें:

P, Q, R, S, T, U, V and W are sitting around a circle facing at the centre. T is second to the left of P and third to the right of V. S is second to the right of W who is to the immediate right of T. Q is third to the right of U./P, Q, R, S, T, U, V और W एक वृत्त के चारों ओर केन्द्र की ओर मुख किये बैठे हैं। T, P के बाएं से दूसरे स्थान पर है और V के दाएं से तीसरे स्थान पर है। S, W के दाएं से दूसरे स्थान पर है, जो T के निकटतम दाएं है। Q, U के दाएं से तीसरे स्थान पर है।

Who is to the immediate left of T?/T के निकटतम बाएं कौन है?

- Q
- W
- R
- Data inadequate/अपर्याप्त डेटा

**Correct Answer :-Q**

3)

**Question Stimulus :-**

**DIRECTIONS:** Study the following information carefully and answer the questions given below:/निर्देश: दी गई जानकारी को ध्यानपूर्वक पढ़ें और नीचे दिए गए प्रश्नों के उत्तर दें:

P, Q, R, S, T, U, V and W are sitting around a circle facing at the centre. T is second to the left of P and third to the right of V. S is second to the right of W who is to the immediate right of T. Q is third to the right of U./P, Q, R, S, T, U, V और W एक वृत्त के चारों ओर केन्द्र की ओर मुख किये बैठे हैं। T, P के बाएं से दूसरे स्थान पर है और V के दाएं से तीसरे स्थान पर है। S, W के दाएं से दूसरे स्थान पर है, जो T के निकटतम दाएं है। Q, U के दाएं से तीसरे स्थान पर है।

Who is second to the right of P?/P के दाएं से दूसरे स्थान पर कौन है?

- S
- V
- U
- Q

**Correct Answer :-U**

4)

**Question Stimulus :-**

**DIRECTIONS:** Study the following information carefully and answer the questions given below:/निर्देश: दी गई जानकारी को ध्यानपूर्वक पढ़ें और नीचे दिए गए प्रश्नों के उत्तर दें:

P, Q, R, S, T, U, V and W are sitting around a circle facing at the centre. T is second to the left of P and third to the right of V. S is second to the right of W who is to the immediate right of T. Q is third to the right of U./P, Q, R, S, T, U, V और W एक वृत्त के चारों ओर केन्द्र की ओर

मुख किये बैठे हैं। T, P के बाएं से दूसरे स्थान पर है और V के दाएं से तीसरे स्थान पर है। S, W के दाएं से दूसरे स्थान पर है, जो T के निकटतम दाएं है। Q, U के दाएं से तीसरे स्थान पर है।

What is R's position with respect to W?/W के संबंध में, R का क्या स्थान है?

- Third to the left/बाएं से तीसरा
- Fourth to the left/बाएं से चौथा
- Sixth to the right/दाएं से छठवा
- Fifth to the left/बाएं से पाँचवा

Correct Answer :-Third to the left/बाएं से तीसरा

5)

Question Stimulus :-

**DIRECTIONS:** Study the following information carefully and answer the questions given below:/निर्देश: दी गई जानकारी को ध्यानपूर्वक पढ़ें और नीचे दिए गए प्रश्नों के उत्तर दें:

P, Q, R, S, T, U, V and W are sitting around a circle facing at the centre. T is second to the left of P and third of the right of V. S is second to the right of W who is to the immediate right of T. Q is third to the right of U./P, Q, R, S, T, U, V और W एक वृत्त के चारों ओर केन्द्र की ओर मुख किये बैठे हैं। T, P के बाएं से दूसरे स्थान पर है और V के दाएं से तीसरे स्थान पर है। S, W के दाएं से दूसरे स्थान पर है, जो T के निकटतम दाएं है। Q, U के दाएं से तीसरे स्थान पर है।

Who is fourth to the left of R?/R के बाएं से चौथे स्थान पर कौन है?

- U
- P
- S
- W

Correct Answer :-P

Topic:- Logical Reasoning

1)

Question Stimulus :-

**DIRECTIONS:** This question is based on the following letter/number/symbol arrangement. Study it carefully and answer the questions./निर्देश: यह प्रश्न नीचे दी गई अक्षर/अंक/चिन्ह की व्यवस्था पर आधारित है। इसे ध्यानपूर्वक पढ़ें और प्रश्न का उत्तर दें।

8 G A R # 7 H E % 9 L 1 @ J K I D U 5 B T 3 \$ Q M 2 \* F 4

Three of the following four are alike in a certain way based on their position in the above arrangement and so form a group. Which is the one that does not belong to the group?/ऊपर दी गई व्यवस्था में, उनके स्थान के आधार पर निम्न चार में से कोई तीन किसी प्रकार से एक समान हैं और एक समूह बनाते हैं। ऐसा कौन एक है, जो समूह का भाग नहीं है?

- DKB

- A87
- J1D
- 3BM

Correct Answer :-DKB

2)

Question Stimulus :-

**DIRECTIONS:** Which of the following can replace the question mark?/ निम्न में से कौन, प्रश्न चिन्ह को प्रतिस्थापित कर सकता है ?

N5V, K7T, ?, E14P, B19N

- H9R
- H10Q
- H10R
- I10R

Correct Answer :-H10R

3)

Question Stimulus :-

Mayank said, "My mother is the only sister of Rajat's brother." What is Rajat's relation with Mayank?/मयंक ने कहा, "मेरी माँ, रजत के भाई इकलौती की बहन है"। रजत का मयंक से क्या संबंध है?

- Cousin/कजिन
- Maternal uncle/मामा
- Uncle/चाचा
- Brother-in-law/साला

Correct Answer :-Maternal uncle/मामा

4)

Question Stimulus :-

**DIRECTIONS:** Find the water image of the question figure:/निर्देश: प्रश्न आकृति का जल प्रतिबिंब ज्ञात करें:

**Problem Figure/प्रश्न आकृति**



**Answer Figure/उत्तर आकृति**



- 1
- 2
- 3
- 4

Correct Answer :-4

5)

Question Stimulus :-

**DIRECTIONS:** Read the following information carefully and answer the questions which follow: /निर्देश: निम्नलिखित जानकारी को ध्यान से पढ़िए और उसके बाद दिए गए प्रश्नों के उत्तर दीजिए:

- (i)  $A \times B$  means A is father of B/  $A \times B$  का अर्थ है A, B का पिता है
- (ii)  $A + B$  means A is daughter of B/  $A + B$  का अर्थ है A, B की पुत्री है
- (iii)  $A \div B$  means A is mother of B/  $A \div B$  का अर्थ है A, B की माता है
- (iv)  $A - B$  means A is brother of B/  $A - B$  का अर्थ है A, B का भाई है

If ' $P + Q - R \div T$ ', how is T related to P? / यदि ' $P + Q - R \div T$ ' है, तो T का P से क्या संबंध है?

- Aunt/आंटी
- Brother/भाई
- Sister/बहन
- Cousin/ कज़िन

Correct Answer :-Cousin/ कज़िन

6)

Question Stimulus :-

If 'black' is called 'red', 'red' is called 'white', 'white' is called 'brown', 'brown' is called 'yellow', 'yellow' is called 'blue' and 'blue' is called 'green', then what will be the colour of milk?/ यदि 'काला' को 'लाल' कहते हैं, 'लाल' को 'सफेद' कहते हैं, 'सफेद' को 'भूरा' कहते हैं, 'भूरा' को 'पीला' कहते हैं, 'पीला' को 'नीला' कहते हैं और 'नीला' को 'हरा' कहते हैं, तो 'दूध' का रंग क्या होगा?

- blue/नीला
- green/हरा
- white/सफेद
- None of these/इनमें से कोई नहीं

Correct Answer :-None of these/इनमें से कोई नहीं

7)

Question Stimulus :-

If 23<sup>rd</sup> November of a certain year is Wednesday then which day will it be on 25 December of the same year?/ यदि किसी वर्ष 23 नवम्बर को बुधवार है, तो उसी वर्ष 25 दिसम्बर को कौन-सा दिन होगा?

- Wednesday/बुधवार
- Monday/सोमवार
- Tuesday/मंगलवार
- Sunday/रविवार

Correct Answer :-Sunday/रविवार

8)

Question Stimulus :-

The door of Chinku's house faces the East. From the back side of his house, he walks straight 50 m, then turns to the right and walks 50 m again. Finally, he turns towards left and stop after walking 25 m. Now, Chinku is in which direction from the starting point?/चिंकू के घर का द्वार पूर्व की ओर है। उसके घर के पीछे की ओर से, वह सीधे 50 मीटर चलता है, फिर वह दाएं मुड़ जाता है और 50 मीटर चलता है। अंत में, वह बाएं मुड़ जाता है और 25 मीटर चलने के बाद रुक जाता है। अब चिंकू प्रारम्भिक बिंदु से किस दिशा में है?

- South-East/दक्षिण-पूर्व
- North-East/उत्तर-पूर्व
- South-West/दक्षिण-पश्चिम
- North-West/उत्तर-पश्चिम

Correct Answer :-North-West/उत्तर-पश्चिम

9)

Question Stimulus :-

A is father of C and D is son of B. E is brother of A. If C is sister of D how is B related to E?/A, C का पिता है और D, B का पुत्र है। E, A का भाई है। यदि C, D की बहन है तो B, E से किस प्रकार संबंधित है?

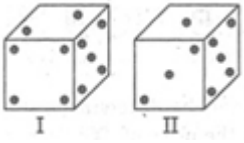
- Sister-in-law/भाभी
- Sister/बहन
- Brother/भाई
- Brother-in-law /साला

Correct Answer :-Sister-in-law/भाभी

10)

Question Stimulus :-

From the given two positions of a single dice, find the number of dots at the face opposite to the face having 4 dots?/एक पाँसे की दर्शायी गई दो स्थितियों में से, 4 बिंदुओं वाली सतह के विपरीत सतह पर कितनी बिंदुएं होगी?



- 1
- 2
- 3
- 5

Correct Answer :-3

11)

Question Stimulus :-

**DIRECTIONS:** In the question below, there are few statements followed by few conclusions. You have to take the given statements to be true even if they seem to be at variance with commonly known facts and then decide which of the given conclusion logically follow(s) from the given statements./निर्देश: नीचे दिए गए प्रश्न में कुछ कथन और उसके बाद कुछ निष्कर्ष दिए गए हैं। आपको दिए गए कथनों को सत्य मानना है भले ही वे सर्वज्ञात तथ्यों से भिन्न प्रतीत होते हों। सभी निष्कर्षों को पढ़िए फिर तय कीजिए कि दिए गए निष्कर्षों में से कौन सा तर्कसंगत रूप से अनुसरण करता है, चाहे सर्वज्ञात तथ्य कुछ भी हों।

Statements:/कथन:

All fruits are lions./सभी फल, शेर हैं।

All lions are foxes./ सभी शेर, लोमडियाँ हैं।

Some foxes are elephants./ कुछ लोमडियाँ, हाथी हैं।

Conclusions:/निष्कर्ष:

I. All fruits are foxes./सभी फल, लोमडियाँ हैं।

II. Some fruits are elephants./कुछ फल, हाथी हैं ।

- Only conclusion I follows./ केवल निष्कर्ष I अनुसरण करता है
- Only conclusion II follows./ केवल निष्कर्ष II अनुसरण करता है
- Neither conclusion I nor II follows./न निष्कर्ष I न II अनुसरण करता है
- Both conclusions I and II follow./ दोनों निष्कर्ष I और II अनुसरण करते हैं

Correct Answer :-Only conclusion I follows./ केवल निष्कर्ष I अनुसरण करता है

12)

Question Stimulus :-

**DIRECTIONS:** In the question below, there are few statements followed by few conclusions. You have to take the given statements to be true even if they seem to be at variance with commonly known facts and then decide which of the given conclusion logically follow(s) from the given statements./निर्देश: नीचे दिए गए प्रश्न में कुछ कथन और उसके बाद कुछ निष्कर्ष दिए गए हैं । आपको दिए गए कथनों को सत्य मानना है भले ही वे सर्वज्ञात तथ्यों से भिन्न प्रतीत होते हों । सभी निष्कर्षों को पढ़िए फिर तय कीजिए कि दिए गए निष्कर्षों में से कौन सा तर्कसंगत रूप से अनुसरण करता है, चाहे सर्वज्ञात तथ्य कुछ भी हों ।

Statements:/कथन:

All students like excursions./सभी विद्यार्थियों को सैर पसंद है ।

Some students like experiments./कुछ विद्यार्थियों को प्रयोग पसंद है ।

No student like exams./किसी विद्यार्थी को परीक्षा पसंद नहीं है ।

Conclusions:/निष्कर्ष:

I. Students who like experiments also like excursions./जिन विद्यार्थियों को प्रयोग पसंद है, उन्हें सैर भी पसंद है ।

II. Some students like exams./कुछ विद्यार्थियों को परीक्षा पसंद है ।

- Only conclusion I follows./ केवल निष्कर्ष I अनुसरण करता है
- Only conclusion II follows./ केवल निष्कर्ष II अनुसरण करता है
- Neither conclusion I nor II follows./न निष्कर्ष I न II अनुसरण करता है
- Both conclusions I and II follow./ दोनों निष्कर्ष I और II अनुसरण करते हैं

Correct Answer :-Only conclusion I follows./ केवल निष्कर्ष I अनुसरण करता है

13)

Question Stimulus :-

Ashok walked 5 m towards East, took a right turn and walked 10 m and again he took a right turn and walked 15 m. In which direction is he facing now?/अशोक पूर्व की ओर 5 मीटर चला, फिर



वह दाएं मुड़ा और 10 मीटर चला और वह पुनः दाएं मुड़ा और 15 मीटर चला । अब उसका मुख किस दिशा कि ओर है?

- South/दक्षिण
- West/पश्चिम
- North/उत्तर
- South-West/दक्षिण-पश्चिम

Correct Answer :-West/पश्चिम

14)

Question Stimulus :-

**DIRECTIONS:** Which of the following can replace the question mark?/ निम्न में से किसे, प्रश्न चिन्ह से प्रतिस्थापित किया जा सकता है ?

CD-12, LB-24, BP-32, NE-?

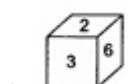
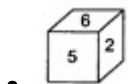
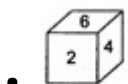
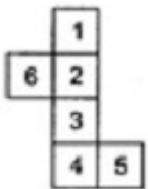
- 70
- 75
- 45
- 95

Correct Answer :-70

15)

Question Stimulus :-

An unfolded dice is given, from the answer figures which figure is similar to the question figure when unfolded?/एक खुला हुआ पाँसा दिया गया है, उत्तर आकृतियों में किस आकृति को खोलने पर वह प्रश्न आकृति के सामान दिखाई देगी?





•



Correct Answer :-

16)

Question Stimulus :-

What will be the angle between the hands of a clock at 3:30 o'clock?/ 3:30 बजे घड़ी की सुइयों के बीच का कोण क्या होगा?

- $90^\circ$
- $75^\circ$
- $135^\circ$
- $60^\circ$

Correct Answer :- $75^\circ$

17)

Question Stimulus :-

In the following options, three of them are alike in a certain way and thus form a group. Which one does not belong to that group?/निम्न विकल्पों में से तीन एक निश्चित तरीके से समान हैं और इसलिए एक समूह बनाते हैं। कौन-सा एक, इस समूह से सम्बन्धित नहीं है?

- 2158
- 2106
- 1348
- 1236

Correct Answer :-2106

18)

Question Stimulus :-

Mohan is fourteenth from the right end in a row of 40 boys. What is his position from the left end in the row?/40 लड़कों की एक पंक्ति में, मोहन का स्थान दायें से चौदहवा है। पंक्ति के बायें छोर से उसका स्थान कौन सा है?

- 25<sup>th</sup>/25वाँ
- 27<sup>th</sup>/27वाँ
- 24<sup>th</sup>/24वाँ

- 26<sup>th</sup>/26वाँ

Correct Answer :-27<sup>th</sup>/27वाँ

19)

Question Stimulus :-

**DIRECTIONS:** Select the answer figure which will replace the question mark (?) to complete it./निर्देश: उस उत्तर आकृति का चयन कीजिए जो कि प्रश्न आकृति में प्रश्नवाचक चिन्ह (?) को प्रतिस्थापित करके उसे पूर्ण करे ।

**Problem Figure/प्रश्न आकृति**



**Answer Figure/उत्तर आकृति**



- A
- B
- C
- D

Correct Answer :-C

20)

Question Stimulus :-

**DIRECTIONS:** In the question below, there are few statements followed by few conclusions. You have to take the given statements to be true even if they seem to be at variance with commonly known facts and then decide which of the given conclusion logically follow(s) from the given statements./निर्देश: नीचे दिए गए प्रश्न में कुछ कथन और उसके बाद कुछ निष्कर्ष दिए गए हैं । आपको दिए गए कथनों को सत्य मानना है भले ही वे सर्वज्ञात तथ्यों से भिन्न प्रतीत होते हों । सभी निष्कर्षों को पढ़िए फिर तय कीजिए कि दिए गए निष्कर्षों में से कौन सा तर्कसंगत रूप से अनुसरण करता है, चाहे सर्वज्ञात तथ्य कुछ भी हों ।

**Statements:/कथन:**

Some players are educated./कुछ खिलाड़ी, शिक्षित हैं ।

Some educated are cultured./कुछ शिक्षित, सुसंस्कृत हैं ।

Some cultured are happy./कुछ सुसंस्कृत, खुश हैं ।

**Conclusions:/निष्कर्ष:**

I. Some players are cultured./ कुछ खिलाड़ी, सुसंस्कृत हैं ।

II. All cultured are players./सभी सुसंस्कृत, खिलाड़ी हैं ।

- Only conclusion I follows./ केवल निष्कर्ष I अनुसरण करता है
- Only conclusion II follows./ केवल निष्कर्ष II अनुसरण करता है
- Neither conclusion I nor II follows./न निष्कर्ष I न II अनुसरण करता है
- Both conclusions I and II follow./ दोनों निष्कर्ष I और II अनुसरण करते हैं

Correct Answer :-Neither conclusion I nor II follows./न निष्कर्ष I न II अनुसरण करता है